

COLÉGIO MARQUES RODRIGUESEstrada da Água Branca, 2551 - Realengo - RJ
Tel: (21) 3462-7520 - www.colegiomr.com.br**Questão 1:**

Vamos diminuir as parcelas e achar os resultados.

$$\begin{array}{r} 70 \\ -34 \\ \hline \end{array}$$

$$\begin{array}{r} 58 \\ -14 \\ \hline \end{array}$$

$$\begin{array}{r} 67 \\ -8 \\ \hline \end{array}$$

$$\begin{array}{r} 36 \\ -6 \\ \hline \end{array}$$

$$\begin{array}{r} 24 \\ -15 \\ \hline \end{array}$$

$$\begin{array}{r} 49 \\ -21 \\ \hline \end{array}$$

$$\begin{array}{r} 90 \\ -23 \\ \hline \end{array}$$

$$\begin{array}{r} 63 \\ -4 \\ \hline \end{array}$$

$$\begin{array}{r} 52 \\ -14 \\ \hline \end{array}$$

$$\begin{array}{r} 38 \\ -12 \\ \hline \end{array}$$

$$\begin{array}{r} 62 \\ -42 \\ \hline \end{array}$$

$$\begin{array}{r} 56 \\ -27 \\ \hline \end{array}$$

$$\begin{array}{r} 38 \\ -30 \\ \hline \end{array}$$

$$\begin{array}{r} 80 \\ -51 \\ \hline \end{array}$$

$$\begin{array}{r} 37 \\ -32 \\ \hline \end{array}$$

Cálculos variados:**Questão 2:**

Mêmica carregou 9 livros para a biblioteca e 10 para sala de aula.
Quantos livros, Mêmica carregou no total?


**Questão 3:**

Maurício lê para a turminha 3 livros por noite. Quantas historinhas ele vai ler em 2 noites?



Questão 4:

Mostre para o Herácio como é fácil resolver as operações de adição e subtração.



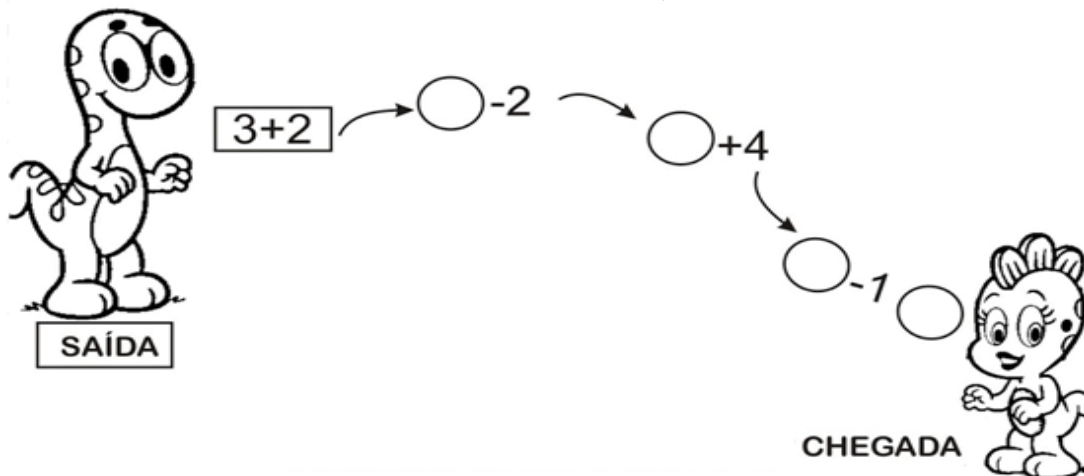
+ 3	
2	5
4	
5	
3	

- 2	
6	4
5	
3	
4	

+ 4	
1	5
0	
5	
1	

Questão 5:

Ajude o dinossauro encontrar sua amiga, usando o raciocínio lógico.

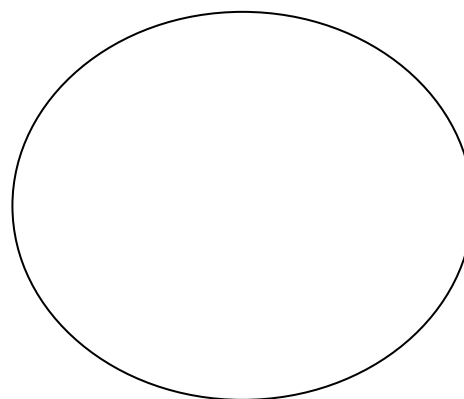
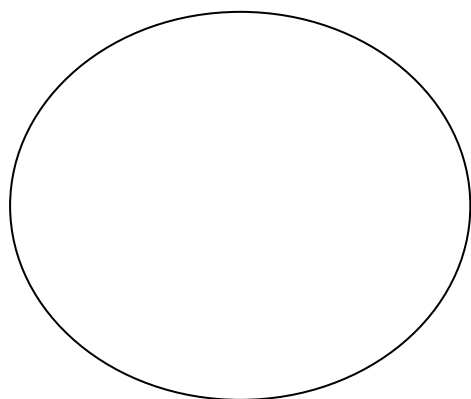


Questão 6:

O resultado da questão anterior é par ou ímpar? _____

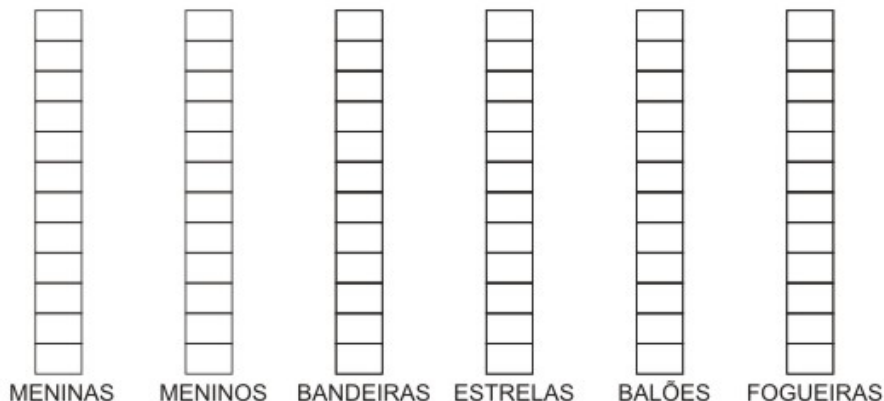
Questão 7:

Desenhe dois conjuntos um com meia dúzia de elementos e outro com uma dúzia de elementos.




Questão 8:

Pinte no gráfico a quantidade de cada item indicado.




Questão 9:

Coleque em números ordinais os acontecimentos desta cachorrinha.



Questão 10:

Identifiquem em números ordinais os objetos. Veja o modelo.



A) O sino é o **6º**.

D) O navio é o .

B) O é o foguete.

E) O é o coelhinho.

C) O é o boné.

F) O é o vaso.

Questão 11:

Responda:

a) Qual é o 1^o dia da semana? _____

b) O mês de junho é o _____ mês do ano.

c) Envolva a sua idade em número ordinal.

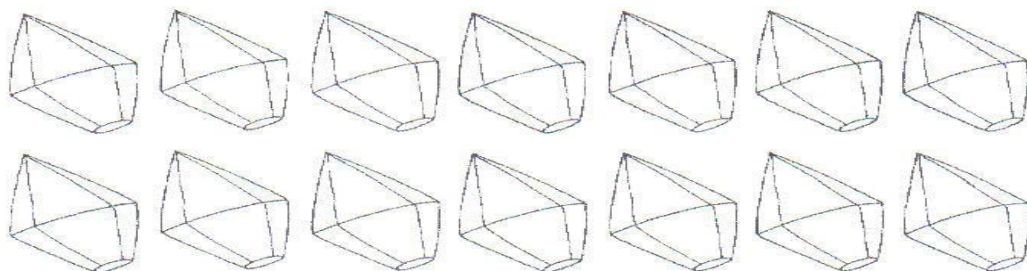
7^o

6^o

5^o

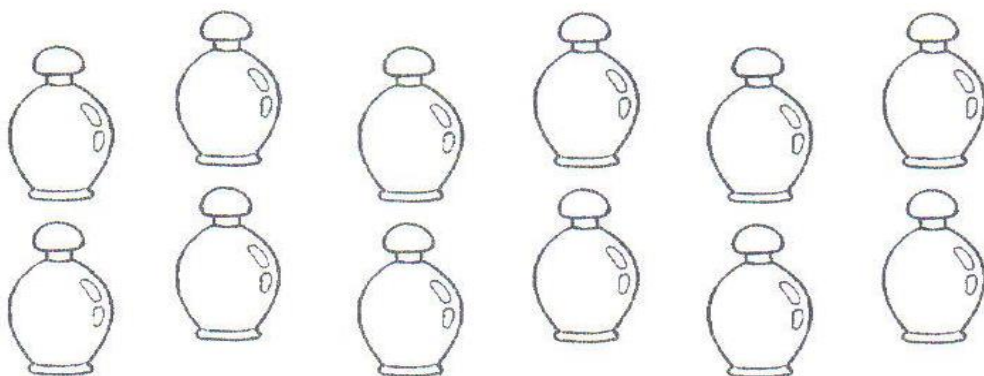
Questão 12:

Pinte uma dúzia de balões.



Questão 13:

Envolva meia dúzia de perfumes.



Questão 14:

Desenhe uma dúzia e meia de flores.



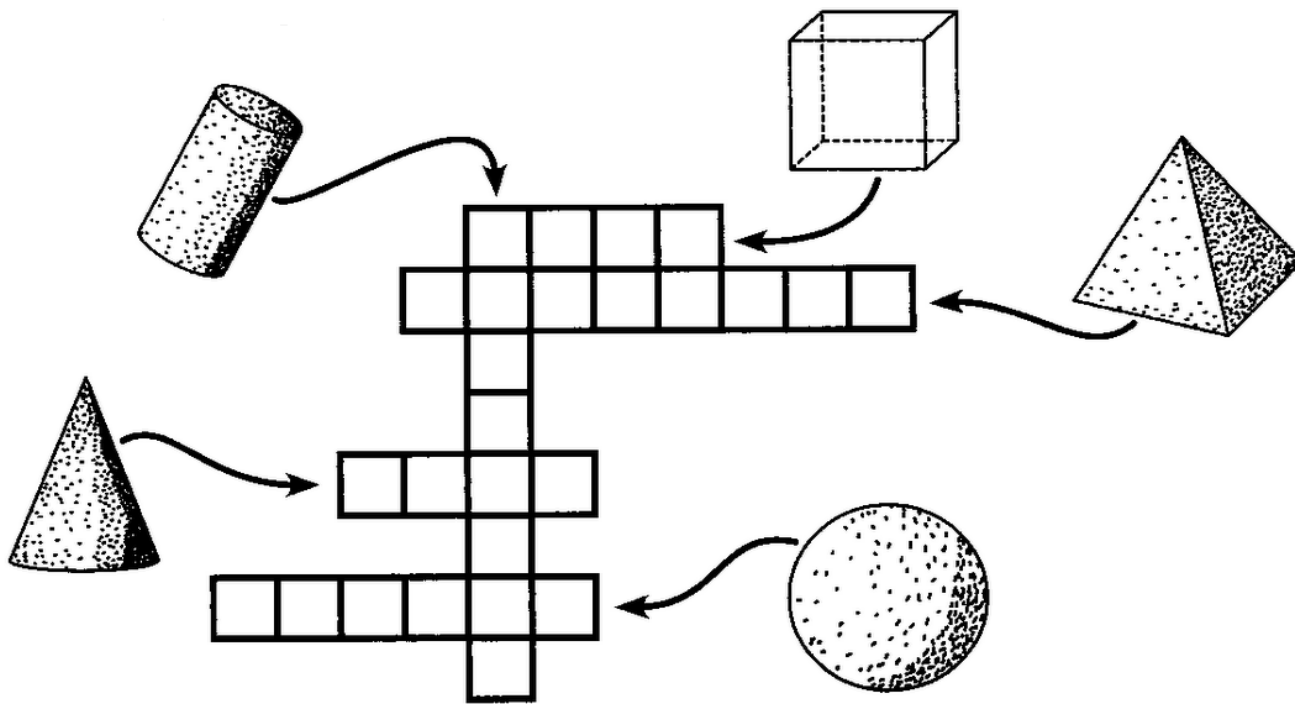
Questão 15:

Continue a sequência das formas geométricas.



Questão 16:

Dê o nome aos sólidos geométricos na cruzadinha.

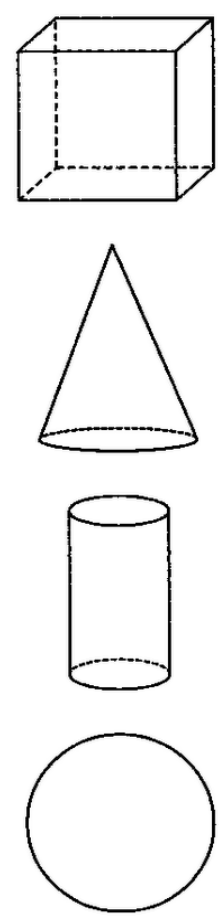
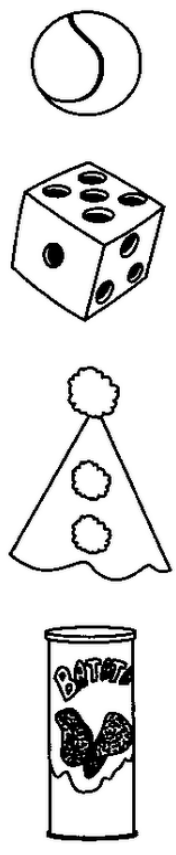


Questão 17:

Faça um desenho usando somente as formas que você conhece.

Questão 18:

Ligue os sólidos geométricos às formas semelhantes.



Questão 19:

Observe o robô e pinte as formas iguais da mesma cor.

